

INSPETOR ESCOLAR

Edital de Abertura de Inscrições nº 001-2019

15 de Março de 2020

LEIA COM ATENÇÃO AS INSTRUÇÕES ABAIXO:

Instruções

Leia atentamente e cumpra rigorosamente as instruções que seguem, pois elas são parte integrante das provas e das normas que regem este Concurso Público.

1. Atente-se aos avisos contidos no quadro da sala.
2. Seus pertences deverão ser armazenados dentro do saco plástico fornecido pelo fiscal. Somente devem permanecer em posse do candidato caneta esferográfica de material transparente com tinta azul ou preta de ponta grossa, documento de identidade, lanche e água, se houver. A utilização de qualquer material não permitido em edital é expressamente proibida, acarretando a imediata exclusão do candidato.
3. Verifique se o cargo constante na capa deste caderno é aquele para o qual realizou a inscrição.
4. Cada questão oferece 5 (cinco) alternativas de respostas, representadas pelas letras A, B, C, D e E, sendo apenas 1 (uma) a resposta correta.
5. Será respeitado o tempo para realização da prova conforme previsto em edital, incluindo o preenchimento da grade de respostas.
6. Os dois últimos candidatos deverão retirar-se da sala de prova ao mesmo tempo, devendo assinar a Ata de Prova.
7. Nenhuma informação sobre o conteúdo das questões será dada pelo fiscal.
8. No caderno de prova, o candidato poderá rabiscar, riscar e calcular.
9. Os gabaritos preliminares da prova objetiva serão divulgados na data descrita no Cronograma de Execução desse Concurso ou Processo Seletivo.
10. Certifique-se de que este caderno contém **40** questões. Caso contrário, solicite ao fiscal da sala a sua substituição.

Boa prova!

Nome do Candidato

Nº do Documento

Língua Portuguesa

Questão 01

É um exemplo de derivação regressiva a palavra:

- a) Portuga.
- b) Desaconselhar.
- c) Joaninha.
- d) Presente.
- e) Folhagem.

Questão 02

"É bem difícil descobrir o que gera a felicidade () pobreza e riqueza falharam nisso."

(Elbert Hubbard)

Assinale a alternativa que apresenta a melhor pontuação para completar a lacuna presente na frase acima.

- a) Vírgula.
- b) Ponto de exclamação.
- c) Ponto final
- d) Travessão.
- e) Ponto e vírgula.

Questão 03

"Ozório é um bom filho, mas gasta demais!"

A frase acima caracteriza Ozório como um:

- a) Perdulário.
- b) Pedante.
- c) Pusilânime.
- d) Pernóstico.
- e) Pérfido.

Questão 04

São exemplos de gerundismos, EXCETO:

- a) Estarei resolvendo o problema amanhã.
- b) Júlia vai estar completando 3 anos na próxima semana.
- c) Amanhã vou estar viajando para Manaus.
- d) A prefeitura vai estar entrando em contato com você.

e) Lara e Júlia estão brincando no parque.

Questão 05

Qual das interjeições abaixo está classificada de maneira INCORRETA?

- a) Dúvida: Que pena!
- b) Advertência: Devagar!
- c) Afugentamento: Passa!
- d) Repulsa: Fora!
- e) Alívio: Ufa!

Questão 06

Num mundo _____ as pessoas não gostam mais uma das outras e vivem _____ vigilância, a melhor forma de ser feliz é ficar sozinho.

Assinale a alternativa que preenche as lacunas corretamente.

- a) no qual - sob.
- b) no qual - sobre.
- c) cuja - sob.
- d) onde - sob.
- e) onde - sobre.

Questão 07

"A inclinação **mordaz** e maledicente de outrem, não passam de vãs palavras dos imodestos."

VanTófilli

A palavra **mordaz** pode ser substituída no trecho acima por:

- a) correta.
- b) confusa.
- c) permanente.
- d) persuasiva.
- e) corrosiva.

Questão 08

Marque a alternativa cujo período apresenta somente artigos indefinidos:

- a) A garota prefere lutar por ele, pois o considera uma pessoa boa.
- b) Mariana é uma mulher com um coração de ouro.

- c) Uma das vantagens de ser garçoneiro é que acabo conhecendo todas as pessoas.
d) Poderia me passar a colher, por favor?
e) A família está em festa com a chegada do bebê.

Questão 09

Qual das frases abaixo apresenta como figura de linguagem a ironia?

- a) Ele trabalha como as formigas.
b) Paula canta feito um rouxinol.
c) Você é um cozinheiro maravilhoso, quase me envenenou.
d) Eu abri a porta e ele não estava lá.
e) O frio bateu na minha porta.

Questão 10

Julgue as frases abaixo em relação ao emprego da crase.

- I - Refiro-me à mulher.
II - Saímos à noite.
III - A medida que Eusébio cresce, Luana fica mais admirada.

Estão CORRETAS as seguintes frases.

- a) I e II.
b) II.
c) I.
d) II e III.
e) I, II e III.

Matemática

Questão 11

Em uma empresa 60% dos funcionários são homens e entre eles 20% são da mesma família. Qual a porcentagem dos homens desta mesma família trabalham nesta empresa.

- a) 12%
b) 20%
c) 60%
d) 40%
e) 80%

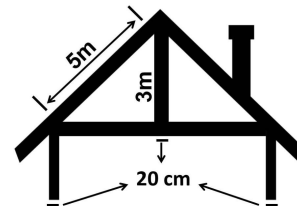
Questão 12

Em uma pesquisa feita na Escola João José sobre a preferência dos alunos entre Matemática e Física foi detectado que dos 450 estudantes, 350 gostam de Matemática e 250 gostam de Física. Assim, quantos alunos gostam das duas matérias?

- a) 100 alunos.
b) 300 alunos.
c) 450 alunos.
d) 150 alunos.
e) 600 alunos.

Questão 13

Uma casa está sendo construída conforme o modelo dado e o construtor precisa saber o tamanho da peça que usará na base do "T" invertido. Utilizando as medidas dadas na figura encontre o tamanho desta peça e escolha a alternativa correspondente.



- a) A peça mede 8,60 metros.
b) A peça mede 8,20 metros.
c) A peça mede 4,40 metros.
d) A peça mede 4,0 metros.
e) A peça mede 8 metros.

Questão 14

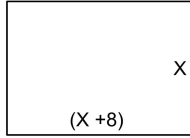
Flávio é 0,25m mais alto que seu irmão Felipe, que é 0,35m mais baixo que seu primo Marcos e a soma das medidas dos três é 5,1m. Qual é a altura de Marcos?

- a) Marcos mede 1,15m.
b) Marcos mede 1,75m.
c) Marcos mede 1,85m.
d) Marcos mede 1,5m.
e) Marcos mede 1,25m.

Questão 15

A imagem abaixo é de uma praça cujas medidas estão sendo estudadas para que seja feita a sua arborização. Nesta anotação, largura e comprimento

ainda estão escritos com variáveis que poderão ser calculadas usando a informação de que sua área é de 240m^2 . Qual a medida da largura (L) e do comprimento (C) desta praça?



- a) A largura é 8m e o comprimento é 20m.
- b) A largura é 12m e o comprimento é 20m.
- c) A largura é 8m e o comprimento é 12m.
- d) A largura é 20m e o comprimento é 32m.
- e) A largura é 12m e o comprimento é 24m.

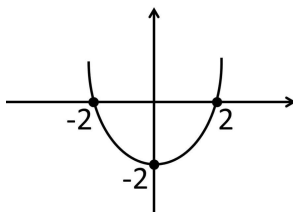
Questão 16

Pedro tinha no caixa de seu mercadinho 15 moedas de um valor X e 5 moedas de uma valor Y, que somam R\$8,75. Um cliente chegou, comprou um produto de R\$ 3,75 e lhe pagou com 7 moedas do valor X e 1 moeda do valor Y. Qual o valor de cada tipo de moeda?

- a) X = 50 centavos e Y = 25 centavos
- b) X = 50 centavos e Y = 10 centavos
- c) X = 5 centavos e Y = 2 centavos
- d) X = 5 centavos e Y = 10 centavos
- e) X = 10 centavos e Y = 5 centavos

Questão 17

Observe o gráfico abaixo e escolha a opção que traz a função quadrática correspondente.



- a) $F(X) = X^2 - 2$
- b) $F(X) = X^2 - 2X + 2$
- c) $F(X) = X^2 - 2X + 4$
- d) $F(X) = X^2 - 4X + 2$
- e) $F(X) = X^2 - 4$

Questão 18

Júlia fez uma aplicação a juros simples de 2,5% ao trimestre e depois de 1 ano e 6 meses recebeu

R\$11500,00. Qual foi o valor que Júlia investiu?

- a) R\$ 1500,00
- b) R\$ 11000,00
- c) R\$ 11500,00
- d) R\$ 10500,00
- e) R\$ 10000,00

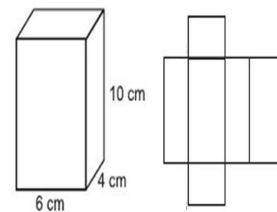
Questão 19

A função $F(X) = 2^{X/2}$ representa o índice de procriação de uma bactéria em um estudo feito pelo laboratório da Universidade de Juriama. Qual das opções abaixo corresponde ao valor de X, quando $F(X) = 2048$?

- a) X = 5,5
- b) X = 30
- c) X = 22
- d) X = 11
- e) X = 1

Questão 20

Fernanda pretende fazer uma caixa de presente com as medidas dadas na figura abaixo, mas para isso precisa saber qual o tamanho do papel que irá compra, ou seja, tem saber qual é a área da caixa planificada. Ao calcular esta área ela encontrou o valor de:



- a) 288cm^2
- b) 248cm^2
- c) 12cm^2
- d) 248 cm^2
- e) 208cm^2

Informática

Questão 21

O Microsoft Office Excel, conhecido também por Office Excel ou somente Excel, é um software da Microsoft. É um programa que gera planilhas, o que antigamente só era feito por papel. Este programa foi

lançado em 1985, para a plataforma MAC, da Apple. E em suas fórmulas é possível utilizar uma ou mais das 4 operações, a operação de multiplicar é representada pelo:

- a) *
- b) x
- c) =multi
- d) :
- e) =soma

Questão 22

Pasta é o nome que damos a certas "gavetas" no disco. Pastas são estruturas que dividem o disco em várias partes de tamanhos variados, como cômodos em uma casa. Uma pasta pode conter arquivos e outras pastas. As pastas são comumente chamadas de Diretórios, nome que possuíam antes. As pastas que estão organizadas dentro de outras pastas damos o nome:

- a) Contrapasta.
- b) Raiz.
- c) Unidade.
- d) Subpasta.
- e) Setor.

Questão 23

Um sistema operacional nada mais é que um programa - um software. Na verdade, ele é o principal programa do computador, já que possibilita que o usuário comande as funções da máquina.

São exemplos de sistema operacionais de computador:

- a) MacOS, Chrome e Linux.
- b) Unix, Opera e Windows.
- c) Prompt-DOS, Edge e Linux.
- d) Android, iOS e Windows Phone.
- e) Windows, Chrome OS e Ubuntu.

Questão 24

Browser é um programa desenvolvido para permitir a navegação pela web, capaz de processar diversas linguagens, como HTML, ASP, PHP. Sua interface vai variar de acordo com a marca, onde quem escolhe é o usuário.

Em inglês, o verbo browser pode significar procurar ou olhar casualmente para alguma coisa. Assim, o browser é um navegador, que permite que o utilizador encontre o que procura na internet. São

exemplos de navegadores:

- a) Edge, Internet Explorer e Chrome.
- b) Firefox, Opera e Avast.
- c) Windows Explorer, Chromium e Opera.
- d) Publisher, Opera e Avira.
- e) Acrobat Reader, LibreOffice e Access.

Questão 25

É possível alinhar textos do Word na horizontal e vertical para determinar a aparência e orientação das bordas dos parágrafos nas páginas. O editor da Microsoft permite alterar de forma automática e uniforme a posição do texto em relação às margens para criar documentos adequados a normas como as da ABNT, por exemplo. As alterações podem ser aplicadas em trabalhos, relatórios e artigos.

Uma configuração que é feita no texto para alinhar dos dois lados (esquerdo e direito) é:

- a) Centralizar.
- b) Espaçamento.
- c) Recuar.
- d) Justificar.
- e) Sublinhado.

Conhecimentos Específicos

Questão 26

"O Pacto Nacional pela Alfabetização na Idade Certa tem o propósito de apoiar todos os professores que atuam no ciclo de alfabetização, incluindo os que atuam nas turmas multisseriadas e multietapa, a planejarem as aulas e a usarem de modo articulado os materiais e as referências curriculares e pedagógicas ofertados pelo MEC às redes que aderirem ao Pacto Nacional pela Alfabetização na Idade Certa e desenvolverem as ações desse Pacto."

www.fnnde.gov.br

Uma definição resumida de toda a proposta trazida por este programa diria que o PNAIC tem como objetivo:

- a) A garantia da alfabetização plena de todas as crianças.
- b) A garantia de vagas em escolas de alfabetização para adultos.

- c) A garantia de programas de alfabetização para adultos.
- d) A garantia de vagas em escolas de alfabetização para todas as crianças.
- e) A garantia da destinação de verbas à promoção de programas que visem a alfabetização de adultos.

Questão 27

A educação tem entre suas modalidades a educação especial, que enfrenta desafios para se estabelecer da forma como foi determinada por leis como a LDB, que esta modalidade de ensino será oferecida, **preferencialmente na rede regular de ensino**, para educandos com deficiência, transtornos globais do desenvolvimento e altas habilidades ou superdotação. O termo em destaque nos remete ao conceito de:

- a) Assistencialismo.
- b) Exclusão.
- c) Inclusão.
- d) Protecionismo.
- e) Privilégio.

Questão 28

A educação sempre foi considerada um dos principais indicadores de desenvolvimento de uma nação, estando atrelada a aspectos culturais e sociais que evidenciam a realidade econômica da população e influenciam na tomada de decisões no que tange às _____ aplicadas pelo estado na educação, diante da demanda de cada região, sempre com a participação das comunidades e com o objetivo de suprir possíveis necessidades e corrigir déficits. O termo que completa a lacuna e que corresponde a esta definição é:

- a) propostas culturais
- b) políticas de assistencialismo
- c) políticas públicas
- d) propostas pedagógicas
- e) propostas financeiras

Questão 29

Um dos profissionais mais atuantes em uma instituição de ensino, aquele que transita por toda a escola, geralmente aquele que mais conhece os alunos, e a quem eles recorrem quando precisam resolver algo rapidamente. Sua atuação é de relação direta com os estudantes e seu papel é fundamental para a manutenção da harmonia entre eles. Toda essa responsabilidade é atribuída ao:

- a) Pedagogo.
- b) Professor.
- c) Secretário.
- d) Inspetor.
- e) Diretor.

Questão 30

Entre os inúmeros estudos da Educação enquanto ciência que requer a sistematização de métodos e uma análise profunda de sua aplicabilidade e de seus objetivos, estão aquelas deixadas por Paulo Freire. Seu legado é, indiscutivelmente, a maior contribuição de um brasileiro para o desenvolvimento de políticas públicas e de práticas na educação. Seu pensamento voltado para as necessidades educacionais do povo defendia, entre outras coisas, a teoria de que:

- a) A escola é o lugar certo para a aquisição de conhecimentos e para o desenvolvimento de habilidade que tornarão o indivíduo apto para atividades laborais.
- b) O valor da educação está nos resultados que ela produz.
- c) A educação deve sempre visar a formação de uma massa que reconheça a importância dos governos e outras autoridades no desenvolvimento de um país.
- d) Educar é a arte de ensinar aquilo que a vida e a sociedade não oferecem e precisa ser entendida como ciência que faz o indivíduo encontrar seu lugar na hierarquia social.
- e) A escola deve ser libertária, deve ter como propósito a formação de um indivíduo capaz de decidir sobre o próprio destino e de tomar decisões fundamentadas em um pensamento crítico desenvolvido por meio da educação.

Questão 31

O Fundo de Manutenção e Desenvolvimento da Educação Básica e Valorização dos Profissionais da Educação (FUNDEB) tem natureza contábil e é formado, em sua maioria, por verbas provenientes de impostos e transferências vinculados à educação por força do art. 212 da Constituição Federal, podendo ser completado por verba federal, sempre que se fizer necessário. Os impostos que subsidiam este fundo quase que em sua totalidade são provenientes de quais esferas do poder público?

- a) Governo Federal, Estados e Municípios.
- b) Estados, Distrito Federal e Municípios.
- c) Governo Federal e Municípios.
- d) Distrito Federal e Municípios.
- e) Estados e Distrito Federal.

Questão 32

A Constituição brasileira cita entre os princípios sob os quais o ensino será ministrado a gestão democrática das escolas públicas. Este conceito é muito difundido no meio educacional, mas nem sempre é bem compreendido. Escolha entre as definições abaixo aquela que mais condiz com este conceito:

- a) Gerir democraticamente consiste em permitir que comunidade escolar, principalmente a família e a sociedade, tenham conhecimento das decisões pedagógicas e administrativas tomadas pela equipe gestora da instituição de ensino.
- b) Democracia é o povo no poder, logo, no processo de gestão democrática as decisões administrativas serão tomadas por um conselho financeiro formado só por membros da comunidade e as pedagógicas por um conselho educacional, formado pelos profissionais de ensino da instituição.
- c) A gestão democrática destitui o diretor para atribuir ao conselho de escola as funções administrativas e pedagógicas da instituição.
- d) A gestão democrática está baseada na abertura para a participação de toda a comunidade escolar, incluindo família e sociedade, na tomada de decisões pedagógicas e administrativas, proporcionando ao estudante o desenvolvimento de sua autonomia, liberdade e autonomia.
- e) Gestão democrática é aquela que atribui as funções administrativas ao diretor e as pedagógicas ao pedagogo.

Questão 33

O Plano Nacional de Educação, sancionado em 2014 para vigorar até 2024, estabelece 20 metas que visam melhorar a educação do país. Entre estas metas tem-se: META 16: Formar, em nível de _____ 50% (cinquenta por cento) dos professores da educação básica, até o último ano de vigência deste PNE, e garantir a todos (as) os (as) profissionais da educação básica formação continuada em sua área de atuação, considerando as necessidades, demandas e contextualizações dos sistemas de ensino. O termo que completa corretamente a lacuna do texto é:

- a) Pós-graduação
- b) Tecnólogo
- c) Mestrado
- d) Doutorado
- e) Graduação

Questão 34

As Diretrizes Curriculares Nacionais Gerais para a Educação Básica surge da necessidade de atualização das políticas educacionais que garantam o direito de todo brasileiro de alcançar uma formação humana, cidadã e profissional, no ambiente educativo. Entre seus objetivos podemos citar:

- I. Organizar processos para captação de recursos que irão subsidiar projetos de formação continuada para os profissionais da educação básica.
- II. Sistematizar os princípios e diretrizes gerais da Educação Básica contidos na Constituição, na LDB e demais dispositivos legais, traduzindo-os em orientações que contribuam para assegurar a formação básica comum nacional, tendo como foco os sujeitos que dão vida ao currículo e à escola;
- III. Estimular a reflexão crítica e propositiva que deve subsidiar a formulação, execução e avaliação do projeto político-pedagógico da escola de Educação Básica;
- IV. Orientar os cursos de formação inicial e continuada de profissionais - docentes, técnicos, funcionários - da Educação Básica, os sistemas educativos dos diferentes entes federados e as escolas que os integram, indistintamente da rede a que pertençam.

A análise dos itens acima nos faz concluir que:

- a) I, III e IV estão corretas
- b) Somente I e IV estão corretas.
- c) II, III e IV estão corretas.
- d) I, II e III estão corretas.
- e) Somente III e IV estão corretas.

Questão 35

O Estatuto da Criança e do Adolescente é um conjunto de normas que tem como objetivo a proteção integral da criança e do adolescente. Entre os diversos direitos ali tratados o art.16 descreve os aspectos aos quais direito à liberdade compreende. Entre as opções abaixo, qual **NÃO** representa um destes aspectos?

- a) Ir, vir e estar nos logradouros públicos e espaços comunitários, ressalvadas as restrições legais.
- b) Trabalhar para contribuir com a renda familiar.
- c) Buscar refúgio, auxílio e orientação.
- d) Brincar, praticar esportes e divertir-se.
- e) Opinião e expressão.

Questão 36

O conceito atual de gestão escolar carrega em si a complexidade da destituição da figura do diretor, que em tempos atrás era o único responsável pela tomada de decisões dentro da instituição de ensino, para a instalação de um sistema organizacional interno da escola que envolve em suas práticas todos aqueles que a elas estão relacionados. Entre algumas das atribuições de um gestor podemos citar:

- I. Aumentar o engajamento de família e comunidade na construção do processo ensino e aprendizagem.
- II. Garantir o debate entorno das propostas de ação, mas estabelecer sua autoridade na tomada de decisão.
- III. Cobrar do corpo docente o melhor aproveitamento do tempo de aula.
- IV. Formar uma equipe responsável por superar os desafios da escola.
- V. Promover um ambiente físico necessário para a aprendizagem.

Qual das opções abaixo corresponde à análise CORRETA dos itens supracitados

- a) I, IV e V estão corretas.
- b) I, II e IV estão corretas.
- c) III, IV e V estão corretas.
- d) I, III e V estão corretas.
- e) II, III e V estão corretas.

Questão 37

Com a nova organização do ensino, conceitos como o de gestão democrática trouxeram consigo propostas que visam ampliar a participação de toda a comunidade escolar na estruturação dos projetos da instituição. Sem dúvida alguma o documento mais importante que surgiu com este processo é o Projeto Político Pedagógico, o PPP. Podemos definir este documento como sendo:

- a) Um documento que visa estabelecer regras de condutas e ações que irão nortear o trabalho dos docentes.

- b) Um documento elaborado com a participação de toda a comunidade escolar, incluindo família e sociedade, com propostas de trabalho que serão enviadas a órgãos superiores.
- c) Um instrumento que reflete a proposta educacional da escola, norteia os trabalhos com objetivos e metas pré-estabelecidas, possibilitando o desenvolvimento de um trabalho educacional coletivo.
- d) Um registro do que a comunidade escolar entende que pode ser feito para alcançar melhorias na aprendizagem dos estudantes.
- e) Uma proposta pedagógica que determina toda a metodologia de trabalho que deve adotada no período de sua vigência.

Questão 38

A valorização da avaliação como proposta de aprendizagem é um conceito que renova toda a prática letiva e possibilita que os objetivos de conhecer e saber sejam construídos desde a gênese deste processo. Assim, todo o planejamento das ações de desenvolvimento do educando está fundamentado na concepção de que:

- a) Já não há mais espaço para práticas avaliativas dentro das novas concepções educacionais. A aprendizagem é algo que inspira liberdade e autonomia, permitindo assim, que o jovem seja o único responsável por dizer se os resultados esperados foram alcançados.
- b) A avaliação é o único instrumento capaz de determinar se as metas pré-estabelecidas no início de cada etapa do processo educacional foram atingidas a contento.
- c) A proposta educacional que objetiva a aprendizagem, se distancia do tradicional caráter quantitativo para dar lugar a um processo contínuo, de observação diária e de função diagnóstica.
- d) Ensinar e aprender é um processo que depende diretamente de um instrumento que, ao final de cada uma de suas etapas, permita que se quantifique o nível de aprendizagem do educando.
- e) Por mais que a prática educativa se renove, formando novas concepções de todo o processo, o instrumento da avaliação nunca perderá seu caráter classificatório e eliminatório.

Questão 39

O EDUCACENSO é uma ferramenta que permite a obtenção de dados de professores, estudantes,

turmas e escolas de todo o país, tanto da rede pública quanto da privada. Muito diferente de 1937, quando o primeiro censo foi criado no Brasil, hoje o sistema é totalmente informatizado, podendo assim, avaliar em tempo real a consistência das informações. Sobre a funcionalidade do EDUCACENSO, classifique as alternativas abaixo como verdadeiras (V) e falsas (F).

() Seus dados são usados para calcular o Índice de Desenvolvimento da Educação Básica (Ideb).

() Serve como base de cálculo para os recursos que serão aplicados na compra de livros didáticos.

() Seus dados não devem ser usados como base para a distribuição de verba destinada à alimentação nem para o transporte escola.

A classificação correta das afirmações acima é:

- a) V, V, F.
- b) V, F, F.
- c) F, F, V.
- d) V, F, V.
- e) V, V, V.

Questão 40

A Lei de Diretrizes e Bases da Educação Brasileira (LDB) traz uma definição de quem pode ser considerado um profissional da educação escolar básica e cita nos incisos correspondentes ao artigo em questão, alguns requisitos para que um indivíduo seja considerado como tal. Entre estes critérios **NÃO** consta:

- a) Professores habilitados em nível médio ou superior para a docência na educação infantil e nos ensinos fundamental e médio.
- b) Profissionais graduados que tenham feito complementação pedagógica, conforme disposto pelo Conselho Nacional de Educação.
- c) Trabalhadores em educação portadores de diploma de pedagogia, com habilitação em administração, planejamento, supervisão, inspeção e orientação educacional, bem como com títulos de mestrado ou doutorado nas mesmas áreas.
- d) Trabalhadores em educação, portadores de diploma de curso técnico ou superior em área pedagógica ou afim.
- e) Profissionais com formação apenas em nível fundamental, para atuarem especificamente nas séries iniciais da educação infantil.