

GUARDA MUNICIPAL

Edital de Abertura de Inscrições nº 001-2019

15 de Março de 2020

LEIA COM ATENÇÃO AS INSTRUÇÕES ABAIXO:

Instruções

Leia atentamente e cumpra rigorosamente as instruções que seguem, pois elas são parte integrante das provas e das normas que regem este Concurso Público.

1. Atente-se aos avisos contidos no quadro da sala.
2. Seus pertences deverão ser armazenados dentro do saco plástico fornecido pelo fiscal. Somente devem permanecer em posse do candidato caneta esferográfica de material transparente com tinta azul ou preta de ponta grossa, documento de identidade, lanche e água, se houver. A utilização de qualquer material não permitido em edital é expressamente proibida, acarretando a imediata exclusão do candidato.
3. Verifique se o cargo constante na capa deste caderno é aquele para o qual realizou a inscrição.
4. Cada questão oferece 5 (cinco) alternativas de respostas, representadas pelas letras A, B, C, D e E, sendo apenas 1 (uma) a resposta correta.
5. Será respeitado o tempo para realização da prova conforme previsto em edital, incluindo o preenchimento da grade de respostas.
6. Os dois últimos candidatos deverão retirar-se da sala de prova ao mesmo tempo, devendo assinar a Ata de Prova.
7. Nenhuma informação sobre o conteúdo das questões será dada pelo fiscal.
8. No caderno de prova, o candidato poderá rabiscar, riscar e calcular.
9. Os gabaritos preliminares da prova objetiva serão divulgados na data descrita no Cronograma de Execução desse Concurso ou Processo Seletivo.
10. Certifique-se de que este caderno contém **40** questões. Caso contrário, solicite ao fiscal da sala a sua substituição.

Boa prova!

Nome do Candidato

Nº do Documento

Língua Portuguesa

Questão 01

Qual das frases abaixo apresenta como figura de linguagem a ironia?

- a) Você é um cozinheiro maravilhoso, quase me envenenou.
- b) Paula canta feito um rouxinol.
- c) Eu abri a porta e ele não estava lá.
- d) Ele trabalha como as formigas.
- e) O frio bateu na minha porta.

Questão 02

É um exemplo de derivação regressiva a palavra:

- a) Joanelha.
- b) Folhagem.
- c) Portuga.
- d) Desaconselhar.
- e) Presente.

Questão 03

"É bem difícil descobrir o que gera a felicidade () pobreza e riqueza falharam nisso."

(Elbert Hubbard)

Assinale a alternativa que apresenta a melhor pontuação para completar a lacuna presente na frase acima.

- a) Ponto final
- b) Travessão.
- c) Vírgula.
- d) Ponto de exclamação.
- e) Ponto e vírgula.

Questão 04

Julgue as frases abaixo em relação ao emprego da crase.

I - Refiro-me à mulher.

II - Saímos à noite.

III - A medida que Eusébio cresce, Luana fica mais admirada.

Estão CORRETAS as seguintes frases.

- a) II.
- b) II e III.
- c) I.
- d) I, II e III.
- e) I e II.

Questão 05

Qual das interjeições abaixo está classificada de maneira INCORRETA?

- a) Alívio: Ufa!
- b) Repulsa: Fora!
- c) Advertência: Devagar!
- d) Afugentamento: Passa!
- e) Dúvida: Que pena!

Questão 06

Marque a alternativa cujo período apresenta somente artigos indefinidos:

- a) A família está em festa com a chegada do bebê.
- b) Mariana é uma mulher com um coração de ouro.
- c) Uma das vantagens de ser garçomete é que acabo conhecendo todas as pessoas.
- d) A garota prefere lutar por ele, pois o considera uma pessoa boa.
- e) Poderia me passar a colher, por favor?

Questão 07

"Ozório é um bom filho, mas gasta demais!"

A frase acima caracteriza Ozório como um:

- a) Pedante.
- b) Pérfido.
- c) Pernóstico.
- d) Pusilânime.
- e) Perdulário.

Questão 08

"A inclinação **mordaz** e maledicente de outrem, não passam de vãs palavras dos imodestos."

VanTófilli

A palavra **mordaz** pode ser substituída no trecho acima por:

- a) persuasiva.
- b) permanente.
- c) corrosiva.
- d) confusa.
- e) correta.

Questão 09

São exemplos de gerundismos, EXCETO:

- a) Estarei resolvendo o problema amanhã.
- b) Júlia vai estar completando 3 anos na próxima semana.
- c) Amanhã vou estar viajando para Manaus.
- d) Lara e Júlia estão brincando no parque.
- e) A prefeitura vai estar entrando em contato com você.

Questão 10

Num mundo _____ as pessoas não gostam mais uma das outras e vivem _____ vigilância, a melhor forma de ser feliz é ficar sozinho.

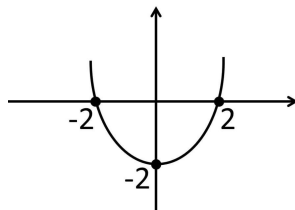
Assinale a alternativa que preenche as lacunas corretamente.

- a) no qual - sobre.
- b) cuja - sob.
- c) onde - sobre.
- d) onde - sob.
- e) no qual - sob.

Matemática

Questão 11

Observe o gráfico abaixo e escolha a opção que traz a função quadrática correspondente.



- a) $F(X) = X^2 - 4X + 2$
- b) $F(X) = X^2 - 2X + 4$

- c) $F(X) = X^2 - 2x + 2$
- d) $F(X) = X^2 - 4$
- e) $F(X) = X^2 - 2$

Questão 12

Júlia fez uma aplicação a juros simples de 2,5% ao trimestre e depois de 1 ano e 6 meses recebeu R\$11500,00. Qual foi o valor que Júlia investiu?

- a) R\$ 1500,00
- b) R\$ 11500,00
- c) R\$ 10500,00
- d) R\$ 11000,00
- e) R\$ 10000,00

Questão 13

Flávio é 0,25cm mais alto que seu irmão Felipe, que é 0,35cm mais baixo que seu primo Marcos e a soma das medidas dos três é 5,1m. Qual é a altura de Marcos?

- a) Marcos mede 1,15m.
- b) Marcos mede 1,75m.
- c) Marcos mede 1,25m.
- d) Marcos mede 1,5m.
- e) Marcos mede 1,85m.

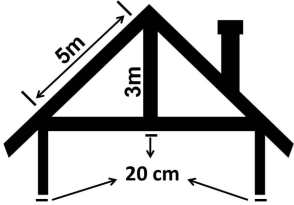
Questão 14

Em uma empresa 60% dos funcionários são homens e entre eles 20% são da mesma família. Qual a porcentagem dos homens desta mesma família trabalham nesta empresa.

- a) 40%
- b) 60%
- c) 20%
- d) 12%
- e) 80%

Questão 15

Uma casa está sendo construída conforme o modelo dado e construtor precisa saber o tamanho da peça que usará na base do " T " inverso. Utilizando as medidas dadas na figura encontre o tamanho desta peça e escolha a alternativa correspondente.



- a) A peça mede 8 metros.
- b) A peça mede 4,40 metros.
- c) A peça mede 8,20 metros.
- d) A peça mede 4,0 metros.
- e) A peça mede 8,60 metros.

Questão 16

Pedro tinha no caixa de seu mercadinho 15 moedas de um valor X e 5 moedas de uma valor Y, que somam R\$8,75. Um cliente chegou, comprou um produto de R\$ 3,75 e lhe pagou com 7 moedas do valor X e 1 moeda do valor Y. Qual o valor de cada tipo de moeda?

- a) X = 50 centavos e Y = 25 centavos
- b) X = 10 centavos e Y = 5 centavos
- c) X = 5 centavos e Y = 10 centavos
- d) X = 5 centavos e Y = 2 centavos
- e) X = 50 centavos e Y = 10 centavos

Questão 17

A função $F(X) = 2^{X/2}$ representa o índice de procriação de uma bactéria em um estudo feito pelo laboratório da Universidade de Juriama. Qual das opções abaixo corresponde ao valor de X, quando $F(X) = 2048$?

- a) X = 11
- b) X = 22
- c) X = 5,5
- d) X = 30
- e) X = 1

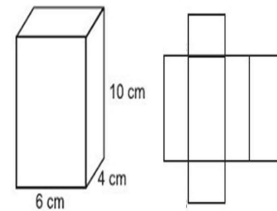
Questão 18

Em uma pesquisa feita na Escola João José sobre a preferência dos alunos entre Matemática e Física foi detectado que dos 450 estudantes, 350 gostam de Matemática e 250 gostam de Física. Assim, quantos alunos gostam das duas matérias?

- a) 300 alunos.
- b) 100 alunos.
- c) 450 alunos.
- d) 150 alunos.
- e) 600 alunos.

Questão 19

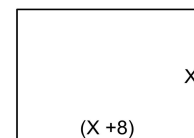
Fernanda pretende fazer uma caixa de presente com as medidas dadas na figura abaixo, mas para isso precisa saber qual o tamanho do papel que irá compra, ou seja, tem saber qual é a área da caixa planificada. Ao calcular esta área ela encontrou o valor de:



- a) 208cm²
- b) 288cm²
- c) 248cm²
- d) 248 cm²
- e) 12cm²

Questão 20

A imagem abaixo é de uma praça cujas medidas estão sendo estudadas para que seja feita a sua arborização. Nesta anotação, largura e comprimento ainda estão escritos com variáveis que poderão ser calculadas usando a informação de que sua área é de 240m². Qual a medida da largura (L) e do comprimento (C) desta praça?



- a) A largura é 20m e o comprimento é 32m.
- b) A largura é 12m e o comprimento é 20m.
- c) A largura é 12m e o comprimento é 24m.
- d) A largura é 8m e o comprimento é 12m.
- e) A largura é 8m e o comprimento é 20m.

Informática

Questão 21

O Microsoft Office Excel, conhecido também por Office Excel ou somente Excel, é um software da Microsoft. É um programa que gera planilhas, o que antigamente só era feito por papel. Este programa foi lançado em 1985, para a plataforma MAC, da Apple.

E em suas fórmulas é possível utilizar uma ou mais das 4 operações, a operação de multiplicar é representada pelo:

- a) =soma
- b) x
- c) *
- d) :
- e) =multi

Questão 22

Pasta é o nome que damos a certas "gavetas" no disco. Pastas são estruturas que dividem o disco em várias partes de tamanhos variados, como cômodos em uma casa. Uma pasta pode conter arquivos e outras pastas. As pastas são comumente chamadas de Diretórios, nome que possuíam antes. As pastas que estão organizadas dentro de outras pastas damos o nome:

- a) Subpasta.
- b) Contrapasta.
- c) Setor.
- d) Unidade.
- e) Raiz.

Questão 23

Browser é um programa desenvolvido para permitir a navegação pela web, capaz de processar diversas linguagens, como HTML, ASP, PHP. Sua interface vai variar de acordo com a marca, onde quem escolhe é o usuário.

Em inglês, o verbo browser pode significar procurar ou olhar casualmente para alguma coisa. Assim, o browser é um navegador, que permite que o utilizador encontre o que procura na internet. São exemplos de navegadores:

- a) Firefox, Opera e Avast.
- b) Windows Explorer, Chromium e Opera.

- c) Publisher, Opera e Avira.
- d) Acrobat Reader, LibreOffice e Access.
- e) Edge, Internet Explorer e Chrome.

Questão 24

É possível alinhar textos do Word na horizontal e vertical para determinar a aparência e orientação das bordas dos parágrafos nas páginas. O editor da Microsoft permite alterar de forma automática e uniforme a posição do texto em relação às margens para criar documentos adequados a normas como as da ABNT, por exemplo. As alterações podem ser aplicadas em trabalhos, relatórios e artigos.

Uma configuração que é feita no texto para alinhar dos dois lados (esquerdo e direito) é:

- a) Justificar.
- b) Espaçamento.
- c) Recuar.
- d) Centralizar.
- e) Sublinhado.

Questão 25

Um sistema operacional nada mais é que um programa - um software. Na verdade, ele é o principal programa do computador, já que possibilita que o usuário comande as funções da máquina.

São exemplos de sistema operacionais de computador:

- a) Prompt-DOS, Edge e Linux.
- b) Android, iOS e Windows Phone.
- c) Unix, Opera e Windows.
- d) MacOS, Chrome e Linux.
- e) Windows, Chrome OS e Ubuntu.

Conhecimentos Específicos

Questão 26

A Constituição da República Federativa do Brasil de 1988, acerca dos Princípios Fundamentais, em seu Art. 1º versa que a República Federativa do Brasil, formada pela união indissolúvel dos Estados e Municípios e do Distrito Federal, constitui-se em Estado Democrático de Direito e tem como fundamentos, **EXCETO**:

- a) O pluralismo político e econômico.
- b) Os valores sociais do trabalho e da livre iniciativa.
- c) A cidadania.
- d) A dignidade da pessoa humana.
- e) A soberania.

Questão 27

Segundo o Estatuto Geral das Guardas Municipais Lei nº 13.022/14. São requisitos básicos para investidura em cargo público na guarda municipal:

- a) Nacionalidade brasileira ou estrangeira.
- b) Nível médio completo de escolaridade com especialização.
- c) Idade mínima de 21 (vinte e um) anos.
- d) Idoneidade moral comprovada por investigação social e certidões expedidas perante o Poder Judiciário estadual, federal e distrital.
- e) Quitação com as obrigações militares, eleitorais e bancárias.

Questão 28

De acordo com a Constituição da República Federativa do Brasil de 1988, são Direitos Sociais:

- a) A educação e a saúde.
- b) O lazer e a segurança.
- c) A alimentação e o trabalho.
- d) Todas as alternativas estão corretas.
- e) A moradia e o transporte.

Questão 29

O Sistema Nacional de Armas (Sinarm), instituído no Ministério da Justiça, no âmbito da Polícia Federal, tem circunscrição em todo o território nacional. Em relação as competências do Sinarm, marque a alternativa **ERRADA**:

- a) Cadastrar as armas de fogo produzidas, importadas e vendidas no País.
- b) Identificar as modificações que alterem as características ou o funcionamento de arma de fogo.
- c) Identificar as características e a propriedade de armas de fogo, mediante vistoria.
- d) Cadastrar as autorizações de porte de arma de fogo e as renovações expedidas pela Polícia Federal.

- e) Cadastrar as transferências de propriedade, extravio, furto, roubo e outras ocorrências suscetíveis de alterar os dados cadastrais, inclusive as decorrentes de fechamento de empresas de segurança privada e de transporte de valores.

Questão 30

Segundo a Constituição da República Federativa do Brasil de 1988, marque a alternativa correta:

- a) Como forma de proteção, homens e mulheres não são iguais em direitos e obrigações, nos termos desta Constituição.
- b) Ninguém será obrigado a fazer ou deixar de fazer alguma coisa, ainda que previsto em lei.
- c) Aos Brasileiros e também aos estrangeiros residentes no País é garantido a inviolabilidade do direito à vida, à liberdade, à igualdade, à segurança e à propriedade.
- d) É livre a manifestação do pensamento, sendo opcional o anonimato
- e) É assegurada, nos termos da lei, a prestação de assistência religiosa, com exceção das entidades civis e militares de internação coletiva, afim de resguardar a segurança.

Questão 31

Julgue as afirmativas a seguir:

I - Quando uma pessoa age com o intuito de obter, para si ou para outrem, vantagem ilícita, em prejuízo alheio, induzindo ou mantendo alguém em erro, mediante artifício, ardil, ou qualquer outro meio fraudulento, estamos diante de um caso de Estelionato.

II - Em uma situação em que o funcionário público apropria-se de dinheiro, valor ou qualquer outro bem móvel, público ou particular, de que tem a posse em razão do cargo, ou desviá-lo, em proveito próprio ou alheio, estamos diante de um caso de Estelionato.

III - Se o funcionário público age no sentido de retardar, deixar de praticar ou praticar indevidamente ato de ofício, ou praticá-lo contra disposição expressa de lei, para satisfazer interesse ou sentimento pessoal, estamos diante de um caso de Prevaricação.

Marque a alternativa CORRETA:

- a) A afirmativa I e III são verdadeiras, e a II é falsa.

- b) A afirmativa I é verdadeira, e a II e III são falsas.
- c) As três afirmativas são verdadeiras.
- d) As três afirmativas são falsas.
- e) A afirmativa III é verdadeira, e a I e II é falsa.

Questão 32

O aborto [...] é a interrupção precoce de uma gestação antes que o feto seja capaz de sobreviver fora do corpo da mãe. O aborto pode ocorrer de maneira intencional ou de maneira totalmente espontânea, sendo, em ambos os casos, um processo doloroso para a mulher que vive esse momento. Fonte: borro.htm
ndoeducacao.bol.uol.com.br/sexualidade/aborto.htm

A luz do Código Penal Brasileiro, marque a opção **CORRETA**:

- a) Aborto no caso de gravidez resultante de estupro é legal, não sendo necessário autorização da gestante
- b) O aborto realizado em clínica especializada e acompanhado de junta médica é permitido no Brasil em qualquer situação.
- c) No Brasil o aborto é proibido em qualquer situação, sem exceções.
- d) Em caso de gravidez de incapaz, resultante de estupro, o seu representante legal não pode autorizar o aborto, sendo direito personalíssimo, exercido somente pela própria gestante.
- e) O Aborto necessário não é tipificado como crime.

Questão 33

Com base no Estatuto Geral das Guardas Municipais Lei nº 13.022/14 é **INCORRETO** afirmar:

- a) A Agência Nacional de Telecomunicações (Anatel) destinará linha telefônica de número 153 e faixa exclusiva de frequência de rádio aos Municípios que possuam guarda municipal.
- b) O exercício das atribuições dos cargos da guarda municipal requer capacitação específica, com matriz curricular compatível com suas atividades.
- c) Aos guardas municipais é autorizado o porte de arma de fogo, conforme previsto em lei.
- d) É assegurado ao guarda municipal o recolhimento à cela, isoladamente dos demais presos, quando sujeito à prisão antes de condenação definitiva.
- e) As guardas municipais utilizarão uniforme e equipamentos padronizados, preferencialmente, nas cores azul-marinho ou preto.

Questão 34

De acordo com Estatuto Geral das Guardas Municipais Lei nº 13.022/14, são princípios mínimos de atuação das guardas municipais, **EXCETO**:

- a) Uso progressivo da força.
- b) Patrulhamento preventivo e ostensivo.
- c) Proteção dos direitos humanos fundamentais, do exercício da cidadania e das liberdades públicas.
- d) Preservação da vida, redução do sofrimento e diminuição das perdas.
- e) Compromisso com a evolução social da comunidade.

Questão 35

Leia as afirmativas a seguir sobre Crimes contra a Fé Pública?

I- É crime falsificar, fabricando-a ou alterando-a, moeda metálica ou papel-moeda de curso legal no país ou no estrangeiro: Nas mesmas penas incorre quem, por conta própria ou alheia, importa ou exporta, adquire, vende, troca, cede, empresta, guarda ou introduz na circulação moeda falsa.

II- Quem, tendo recebido de boa-fé, como verdadeira, moeda falsa ou alterada, a restitui à circulação, depois de conhecer a falsidade, é punido com detenção, de seis meses a dois anos, e multa.

III- É punido com reclusão, de três a quinze anos, e multa, o funcionário público ou diretor, gerente, ou fiscal de banco de emissão que fabrica, emite ou autoriza a fabricação ou emissão: I - de moeda com título ou peso inferior ao determinado em lei; II - de papel-moeda em quantidade superior à autorizada.

Marque a alternativa **CORRETA**:

- a) A afirmativa I e II são verdadeiras, e a III é falsa.
- b) As três afirmativas são verdadeiras.
- c) As três afirmativas são falsas.
- d) A afirmativa I é verdadeira, e a II e III são falsas.
- e) A afirmativa III é verdadeira, e a I e II é falsa.

Questão 36

A segurança pública, dever do Estado, direito e responsabilidade de todos, é exercida para a preservação da ordem pública e da incolumidade das pessoas e do patrimônio, através dos seguintes órgãos, com **EXCEÇÃO** de:

- a) Polícias civis.
- b) Polícias militares e corpos de bombeiros militares.
- c) Polícias penais federal, estaduais e municipal.
- d) Polícia rodoviária federal.
- e) Polícia federal.

Questão 37

Mevio, funcionário público, tem uma filha que irá casar-se com Tício. Mevio coordena recursos públicos que serão utilizados na realização de um projeto cultural do município. Ocorre que, por conta dos gastos com os preparativos do casamento, resolveu desviar parte do recurso financeiro destinado ao projeto cultural do município, para custear a festa de casamento da filha. Estamos diante de que tipo de crime, tipificado no art. 312 do Código Penal Brasileiro?

- a) Corrupção ativa.
- b) Corrupção passiva.
- c) Todas as alternativas estão erradas.
- d) Peculato.
- e) Estelionato.

Questão 38

Na respiração, o oxigênio do ar inalado entra no sangue e o dióxido de carbono é exalado para a atmosfera. O intercâmbio destes gases ocorre quando o ar chega aos alvéolos, que é a parte funcional do pulmão. É aí que o sangue venoso se transforma em sangue arterial. A frequência respiratória em geral é mensurada através da observação da expansão torácica contando o número de inspirações por um minuto. Um adulto normal em repouso respira, via de regra, quantas vezes por minuto?

- a) 14 a 20 respirações por minuto.
- b) 14 a 32 respirações por minuto.
- c) 18 a 25 respirações por minuto.
- d) 18 a 22 respirações por minuto.
- e) 18 a 26 respirações por minuto.

Questão 39

Em uma situação de acidente é fundamental observar os Sinais Vitais que são indicadores das funções vitais e podem orientar o diagnóstico inicial e acompanhar a evolução do quadro clínico de uma vítima. São considerados também como os sinais emitidos pelo nosso corpo de que suas funções vitais estão normais e que qualquer alteração indica uma

anormalidade. Analise as afirmações abaixo acerca dos sinais vitais e preencha os parênteses utilizando:

- I. Para pulso.
- II. Para respiração.
- III. Para pressão arterial.
- IV. Para temperatura.

(__) Pode ser percebido (a) sempre que uma artéria é comprimida contra um osso. Os locais mais comuns para sua obtenção são nas artérias carótida, radial, femoral e braquial.

(__) Para avaliá-lo (a) devemos verificar seu caráter, se ele (a) é superficial ou profundo (a), seu ritmo pode ser regular e irregular.

(__) É medido (a) por instrumento específico e possui uma graduação que varia de 34°C a 42°C.

(__) É a força exercida pelo sangue quando esse é impulsionado pela contração cardíaca. Pode variar de acordo com a idade da pessoa, devido ao aumento da atividade física, situações que levam ao stress e ao medo e por alterações cardíacas.

A sequência correta é:

- a) I, II, IV, III.
- b) II, I, IV, III.
- c) I, III, IV, II
- d) I, IV, III, II.
- e) III, I, IV, II.

Questão 40

Caio está prestes a cometer suicídio, Mevio tenta ajuda-lo para que o mesmo não cometa o ato, descontrolado Caio desferiu um soco na face de Mevio, que irritado profere palavras tipo: "quer pular então pula", "você só está querendo chamar a atenção", "duvido que você pule de verdade". Diante das palavras de Mevio, Caio de fato comete suicídio. Marque a opção correta de acordo com previsão no Código Penal Brasileiro acerca dos crimes contra a pessoa:

- a) Mevio prestou auxílio a Caio, logo, não há que se falar em crime.
- b) Mevio não cometeu crime, agiu acometido por forte emoção.
- c) Mevio cometeu um crime.
- d) Caio deu causa a situação, o que justifica a atitude de Mevio.

- e) Caio é único responsável pela situação, assim Mevio não cometeu crime.