

**AUXILIAR ADMINISTRATIVO**

Edital de Abertura de Inscrições nº 001-2019

15 de Março de 2020

**LEIA COM ATENÇÃO AS INSTRUÇÕES ABAIXO:**

**Instruções**

Leia atentamente e cumpra rigorosamente as instruções que seguem, pois elas são parte integrante das provas e das normas que regem este Concurso Público.

1. Atente-se aos avisos contidos no quadro da sala.
2. Seus pertences deverão ser armazenados dentro do saco plástico fornecido pelo fiscal. Somente devem permanecer em posse do candidato caneta esferográfica de material transparente com tinta azul ou preta de ponta grossa, documento de identidade, lanche e água, se houver. A utilização de qualquer material não permitido em edital é expressamente proibida, acarretando a imediata exclusão do candidato.
3. Verifique se o cargo constante na capa deste caderno é aquele para o qual realizou a inscrição.
4. Cada questão oferece 5 (cinco) alternativas de respostas, representadas pelas letras A, B, C, D e E, sendo apenas 1 (uma) a resposta correta.
5. Será respeitado o tempo para realização da prova conforme previsto em edital, incluindo o preenchimento da grade de respostas.
6. Os dois últimos candidatos deverão retirar-se da sala de prova ao mesmo tempo, devendo assinar a Ata de Prova.
7. Nenhuma informação sobre o conteúdo das questões será dada pelo fiscal.
8. No caderno de prova, o candidato poderá rabiscar, riscar e calcular.
9. Os gabaritos preliminares da prova objetiva serão divulgados na data descrita no Cronograma de Execução desse Concurso ou Processo Seletivo.
10. Certifique-se de que este caderno contém **40** questões. Caso contrário, solicite ao fiscal da sala a sua substituição.

Boa prova!

Nome do Candidato

Nº do Documento

## Língua Portuguesa

### Questão 01

Num mundo \_\_\_\_\_ as pessoas não gostam mais uma das outras e vivem \_\_\_\_\_ vigilância, a melhor forma de ser feliz é ficar sozinho.

Assinale a alternativa que preenche as lacunas corretamente.

- a) onde - sobre.
- b) onde - sob.
- c) cuja - sob.
- d) no qual - sobre.
- e) no qual - sob.

### Questão 02

É um exemplo de derivação regressiva a palavra:

- a) Desaconselhar.
- b) Portuga.
- c) Presente.
- d) Joanelha.
- e) Folhagem.

### Questão 03

"A inclinação **mordaz** e maledicente de outrem, não passam de vãs palavras dos imodestos."

VanTófilli

A palavra **mordaz** pode ser substituída no trecho acima por:

- a) persuasiva.
- b) permanente.
- c) confusa.
- d) correta.
- e) corrosiva.

### Questão 04

Qual das frases abaixo apresenta como figura de linguagem a ironia?

- a) Ele trabalha como as formigas.
- b) Eu abri a porta e ele não estava lá.
- c) O frio bateu na minha porta.

- d) Paula canta feito um rouxinol.
- e) Você é um cozinheiro maravilhoso, quase me envenenou.

### Questão 05

"Ozório é um bom filho, mas gasta demais!"

A frase acima caracteriza Ozório como um:

- a) Pernóstico.
- b) Perdulário.
- c) Pedante.
- d) Pusilânime.
- e) Pérfido.

### Questão 06

Julgue as frases abaixo em relação ao emprego da crase.

I - Refiro-me à mulher.

II - Saímos à noite.

III - A medida que Eusébio cresce, Luana fica mais admirada.

Estão CORRETAS as seguintes frases.

- a) II e III.
- b) I e II.
- c) I.
- d) II.
- e) I, II e III.

### Questão 07

Qual das interjeições abaixo está classificada de maneira INCORRETA?

- a) Alívio: Ufa!
- b) Afugentamento: Passa!
- c) Repulsa: Fora!
- d) Dúvida: Que pena!
- e) Advertência: Devagar!

### Questão 08

Marque a alternativa cujo período apresenta somente artigos indefinidos:

- a) Uma das vantagens de ser garçonnete é que acabo conhecendo todas as pessoas.

- b) A garota prefere lutar por ele, pois o considera uma pessoa boa.
- c) A família está em festa com a chegada do bebê.
- d) Poderia me passar a colher, por favor?
- e) Mariana é uma mulher com um coração de ouro.

**Questão 09**

"É bem difícil descobrir o que gera a felicidade ( ) pobreza e riqueza falharam nisso."

(Elbert Hubbard)

Assinale a alternativa que apresenta a melhor pontuação para completar a lacuna presente na frase acima.

- a) Vírgula.
- b) Ponto final
- c) Ponto de exclamação.
- d) Ponto e vírgula.
- e) Travessão.

**Questão 10**

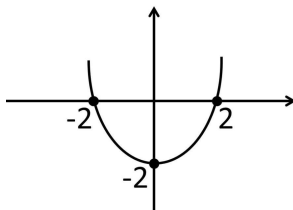
São exemplos de gerundismos, EXCETO:

- a) Estarei resolvendo o problema amanhã.
- b) A prefeitura vai estar entrando em contato com você.
- c) Júlia vai estar completando 3 anos na próxima semana.
- d) Lara e Júlia estão brincando no parque.
- e) Amanhã vou estar viajando para Manaus.

**Matemática**

**Questão 11**

Observe o gráfico abaixo e escolha a opção que traz a função quadrática correspondente.

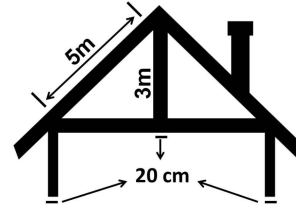


- a)  $F(X) = X^2 - 2$

- b)  $F(X) = X^2 - 2x + 2$
- c)  $F(X) = X^2 - 2X + 4$
- d)  $F(X) = X^2 - 4$
- e)  $F(X) = X^2 - 4X + 2$

**Questão 12**

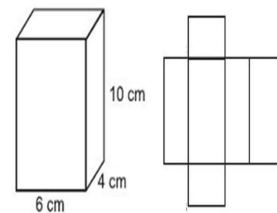
Uma casa está sendo construída conforme o modelo dado e construtor precisa saber o tamanho da peça que usará na base do " T " inverso. Utilizando as medidas dadas na figura encontre o tamanho desta peça e escolha a alternativa correspondente.



- a) A peça mede 4,40 metros.
- b) A peça mede 8,60 metros.
- c) A peça mede 8,20 metros.
- d) A peça mede 8 metros.
- e) A peça mede 4,0 metros.

**Questão 13**

Fernanda pretende fazer uma caixa de presente com as medidas dadas na figura abaixo, mas para isso precisa saber qual o tamanho do papel que irá comprar, ou seja, tem saber qual é a área da caixa planificada. Ao calcular esta área ela encontrou o valor de:



- a) 288cm<sup>2</sup>
- b) 12cm<sup>2</sup>
- c) 248cm<sup>2</sup>
- d) 248 cm<sup>2</sup>
- e) 208cm<sup>2</sup>

**Questão 14**

Pedro tinha no caixa de seu mercadinho 15 moedas de um valor X e 5 moedas de uma valor Y, que

somam R\$8,75. Um cliente chegou, comprou um produto de R\$ 3,75 e lhe pagou com 7 moedas do valor X e 1 moeda do valor Y. Qual o valor de cada tipo de moeda?

- a) X = 10 centavos e Y = 5 centavos
- b) X = 50 centavos e Y = 25 centavos
- c) X = 5 centavos e Y = 2 centavos
- d) X = 5 centavos e Y = 10 centavos
- e) X = 50 centavos e Y = 10 centavos

#### Questão 15

Flávio é 0,25cm mais alto que seu irmão Felipe, que é 0,35cm mais baixo que seu primo Marcos e a soma das medidas dos três é 5,1m. Qual é a altura de Marcos?

- a) Marcos mede 1,5m.
- b) Marcos mede 1,25m.
- c) Marcos mede 1,15m.
- d) Marcos mede 1,85m.
- e) Marcos mede 1,75m.

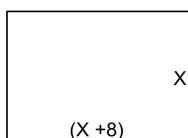
#### Questão 16

Em uma empresa 60% dos funcionários são homens e entre eles 20% são da mesma família. Qual a porcentagem dos homens desta mesma família trabalham nesta empresa.

- a) 12%
- b) 20%
- c) 80%
- d) 40%
- e) 60%

#### Questão 17

A imagem abaixo é de uma praça cujas medidas estão sendo estudadas para que seja feita a sua arborização. Nesta anotação, largura e comprimento ainda estão escritos com variáveis que poderão ser calculadas usando a informação de que sua área é de  $240m^2$ . Qual a medida da largura (L) e do comprimento (C) desta praça?



- a) A largura é 8m e o comprimento é 12m.
- b) A largura é 20m e o comprimento é 32m.
- c) A largura é 8m e o comprimento é 20m.
- d) A largura é 12m e o comprimento é 20m.
- e) A largura é 12m e o comprimento é 24m.

#### Questão 18

A função  $F(X) = 2^{X/2}$  representa o índice de procriação de uma bactéria em um estudo feito pelo laboratório da Universidade de Juriama. Qual das opções abaixo corresponde ao valor de X, quando  $F(X) = 2048$ ?

- a) X = 5,5
- b) X = 11
- c) X = 22
- d) X = 1
- e) X = 30

#### Questão 19

Em uma pesquisa feita na Escola João José sobre a preferência dos alunos entre Matemática e Física foi detectado que dos 450 estudantes, 350 gostam de Matemática e 250 gostam de Física. Assim, quantos alunos gostam das duas matérias?

- a) 150 alunos.
- b) 100 alunos.
- c) 300 alunos.
- d) 600 alunos.
- e) 450 alunos.

#### Questão 20

Júlia fez uma aplicação a juros simples de 2,5% ao trimestre e depois de 1 ano e 6 meses recebeu R\$11500,00. Qual foi o valor que Júlia investiu?

- a) R\$ 10500,00
- b) R\$ 10000,00
- c) R\$ 1500,00
- d) R\$ 11000,00
- e) R\$ 11500,00

## Informática

### Questão 21

O Microsoft Office Excel, conhecido também por Office Excel ou somente Excel, é um software da Microsoft. É um programa que gera planilhas, o que antigamente só era feito por papel. Este programa foi lançado em 1985, para a plataforma MAC, da Apple.

E em suas fórmulas é possível utilizar uma ou mais das 4 operações, a operação de multiplicar é representada pelo:

- a) x
- b) =multi
- c) =soma
- d) :
- e) \*

### Questão 22

É possível alinhar textos do Word na horizontal e vertical para determinar a aparência e orientação das bordas dos parágrafos nas páginas. O editor da Microsoft permite alterar de forma automática e uniforme a posição do texto em relação às margens para criar documentos adequados a normas como as da ABNT, por exemplo. As alterações podem ser aplicadas em trabalhos, relatórios e artigos.

Uma configuração que é feita no texto para alinhar dos dois lados (esquerdo e direito) é:

- a) Sublinhado.
- b) Espaçamento.
- c) Recuar.
- d) Justificar.
- e) Centralizar.

### Questão 23

Pasta é o nome que damos a certas "gavetas" no disco. Pastas são estruturas que dividem o disco em várias partes de tamanhos variados, como cômodos em uma casa. Uma pasta pode conter arquivos e outras pastas. As pastas são comumente chamadas de Diretórios, nome que possuíam antes. As pastas que estão organizadas dentro de outras pastas damos o nome:

- a) Unidade.
- b) Contrapasta.

- c) Raiz.
- d) Setor.
- e) Subpasta.

### Questão 24

Um sistema operacional nada mais é que um programa - um software. Na verdade, ele é o principal programa do computador, já que possibilita que o usuário comande as funções da máquina.

São exemplos de sistema operacionais de computador:

- a) MacOS, Chrome e Linux.
- b) Android, iOS e Windows Phone.
- c) Windows, Chrome OS e Ubuntu.
- d) Prompt-DOS, Edge e Linux.
- e) Unix, Opera e Windows.

### Questão 25

Browser é um programa desenvolvido para permitir a navegação pela web, capaz de processar diversas linguagens, como HTML, ASP, PHP. Sua interface vai variar de acordo com a marca, onde quem escolhe é o usuário.

Em inglês, o verbo browser pode significar procurar ou olhar casualmente para alguma coisa. Assim, o browser é um navegador, que permite que o utilizador encontre o que procura na internet. São exemplos de navegadores:

- a) Windows Explorer, Chromium e Opera.
- b) Publisher, Opera e Avira.
- c) Edge, Internet Explorer e Chrome.
- d) Acrobat Reader, LibreOffice e Access.
- e) Firefox, Opera e Avast.

## Conhecimentos Gerais

### Questão 26

O município de Brejolândia está localizado em meio a várias formações rochosas denominadas de serras, o que lhe confere uma paisagem bastante agradável. No interior é possível encontrar algumas cavernas e também riachos. Estes riachos têm um papel importante, pois são:

- a) Local de pesca de subsistência para os moradores da região.

- b) Fonte de irrigação de pequenas propriedades produtoras de hortaliças.
- c) Afleuentes do Rio São Francisco.
- d) Fonte de água potável para o município.
- e) Importante ponto turístico local.

#### Questão 27

O Brasil é o quinto maior país do mundo em extensão territorial e o maior da América do Sul. É dividido em cinco regiões que se diferenciam em muitos aspectos, principalmente os culturais. O estado da Bahia fica privilegiadamente localizado pois esta região é marcada por movimentos culturais tradicionais, lindas praias e variados pontos turísticos. Em qual das regiões brasileiras citadas abaixo está localizado o estado da Bahia?

- a) Sul.
- b) Norte.
- c) Nordeste.
- d) Suldeste.
- e) Centro-oeste.

#### Questão 28

A cultura baiana conta com inúmeras manifestações religiosas que estão espalhadas pelas 13 regiões turísticas do estado. Em meio a tanta diversidade é impossível não acontecer algum momento de interação entre uma crença e outra. Um exemplo é a \_\_\_\_\_ que acontece na cidade de Cachoeira, no mês de agosto, sendo um momento importante de interação entre o catolicismo e o candomblé. O termo que completa CORRETAMENTE a frase acima e denomina o momento descrito é:

- a) Homenagem aos finados.
- b) Festa de todos os santos.
- c) Festa da Boa Morte.
- d) Homenagem aos santos.
- e) Festa de finados.

#### Questão 29

Entre os três poderes que regem o sistema democrático brasileiro o judiciário sempre foi a maior incógnita. Porém, atualmente temos ouvido falar constantemente de seus juizes, ministros, procuradores, entre outros. Neste contexto, muitas siglas são usadas e uma delas é STF, que se refere ao maior órgão de cúpula do judiciário e significa:

- a) Superior Tribunal Federativo.
- b) Supremo Tribunal Federal.
- c) Supremo Tributo Federativo.
- d) Secretaria Tributária Federal
- e) Segundo Tribunal Federal.

#### Questão 30

A palavra gentílico refere-se a um adjetivo que designa um povo ou nação. os gentílicos geralmente estão relacionados ao próprio nome do lugar ao qual se refere, mas em alguns casos questões históricas ou culturais levaram a criação de termos diferentes, como por exemplo o natural da cidade do Rio de Janeiro que é conhecido como carioca. Assim também é na capital baiana, pois quem nasce em Salvador é chamado de:

- a) Geralista.
- b) Canela verde.
- c) Bandeirante.
- d) Baré.
- e) Soteropolitano.

#### Questão 31

No município de Brejolândia "O cargo de \_\_\_\_\_ foi criado em 11 de abril de 1835, pela assembleia provincial paulista, em reação aos amplos poderes conferidos pelo Código de Processo Criminal de 1832 às câmaras municipais. Seguiram o exemplo paulista seis províncias do nordeste brasileiro (Alagoas, Ceará, Maranhão, Paraíba, Pernambuco e Sergipe).  
[www.brejolandia.ba.gov.br/gestao](http://www.brejolandia.ba.gov.br/gestao)

Assinale a alternativa que completa CORRETAMENTE a lacuna no texto.

- a) Deputado
- b) Juiz
- c) Prefeito
- d) Delegado
- e) Vereador

#### Questão 32

Um decreto do governo federal é usado em situações nas quais um estado solicita ajuda com intervenção militar para dirimir conflitos que tomem proporções com possibilidade de sair do controle. Os casos mais recentes foram no estado do Ceará e no Rio de Janeiro. Este decreto é chamado pelas autoridades e divulgado na mídia como GLO, que



significa:

- a) Garantia da Lei de Origens.
- b) Garantia de Legalização Ordinal.
- c) Garantia de Luta Original.
- d) Garantia Legal de Organização.
- e) Garantia da Lei e da Ordem.

### Questão 33

A Bahia é um dos maiores berços culturais do Brasil. Muito famosa na produção musical, com artistas que vão do rock ao axé, tem esta soberania é reconhecida mundialmente. Mas, a fama da cultura baiana não se restringe à música, ela também se espalha por outras manifestações como as tradições religiosas, a culinária a literatura. Esta última tem como um de seus maiores ícones um baiano de Itabuna chamado:

- a) Fernando Pessoa.
- b) Carlos Drummond de Andrade.
- c) Machado de Assis.
- d) Jorge Amado.
- e) Mário Quintana.

### Questão 34

Tendo como base de sua economia a pecuária, o município de Brejolândia possui uma extensa área de pastagem onde é criado um rebanho bovino, predominantemente da raça nelore, destinados principalmente para as atividades de:

- I. Produção de leite
- II. Recria
- III. Exportação
- IV. Engorda

Escolha abaixo a alternativa que corresponde a informação verdadeira.

- a) II e IV estão corretas.
- b) I e IV estão corretas
- c) I e III estão corretas.
- d) I e II estão corretas.
- e) II e III estão corretas.

### Questão 35

A Bahia está entre os estados privilegiados por serem cortados pelo mais importante rio do país. Além disso, ele também é o maior totalmente nacional e tem uma enorme riqueza econômica,

cultural e social, pois perpassa seis estados brasileiros. Possui cerca de 168 afluentes e é classificado como rio perene, pois não desaparece no período da seca. Seu nome é:

- a) Rio Negro.
- b) Rio Paraíba do Sul.
- c) Rio Doce.
- d) Rio São Francisco.
- e) Rio Amazonas.

### Questão 36

Uma notícia divulgada na mídia dizia que "quarentena pode acabar antes da hora". A manchete se refere ao período de observação pelo qual um grupo de brasileiros estava passando após terem chegado da China, onde uma vírus foi detectado em um estágio avançado de contaminação. Qual a denominação dada à família viral a qual este vírus pertence?

- a) Rotavírus.
- b) H1N1.
- c) Coronavírus.
- d) Herpesviridae.
- e) Retroviridae.

### Questão 37

A agricultura não é uma atividade econômica muito forte no município de Brejolândia, mas ainda assim existe uma produção modesta de feijão, milho, frutas e hortaliças que chegam a ser comercializados em uma feira livre, mas é considerada uma produção para:

- a) Agroturismo.
- b) Exportação.
- c) Subsistência.
- d) Comércio.
- e) Pesquisa.

### Questão 38

O Parque Nacional Marinho de Abrolhos está localizado no estado da Bahia, foi criado em abril de 1983 e é considerado um marco para a conservação marinha do Brasil. Entre as alternativas abaixo existem informações verdadeiras e falsas sobre esta região. Classifique-as com (V) ou (F) e escolha a alternativa que corresponde à avaliação CORRETA.

(\_\_ ) O Parque Nacional Marinho de Abrolhos proteger a região com a maior biodiversidade

marinha do Brasil e do Atlântico Sul.

( ) Charles Darwin visitou o Arquipélago de Abrolhos em 1832 e este lhe causou muita curiosidade.

( ) O Arquipélago de Abrolhos resguarda porção significativa do maior banco de corais e da terceira maior biodiversidade marinha do Atlântico Sul.

( ) O Parque protege o principal berçário das baleias Orca no Atlântico Sul que migram para o Banco dos Abrolhos para ter seus filhotes

- a) F, V, F, V.
- b) F, F, V, V.
- c) V, V, F, V.
- d) V, V, V, F.
- e) V, V, F, F.

#### Questão 39

As mesorregiões são subdivisões de um estado que congrega vários municípios de uma área geográfica com condições econômicas e sociais semelhantes. O estado da Bahia está dividido em sete mesorregiões. Em qual delas está localizado o município de Brejolândia?

- a) Vale Sanfranciscano Baiano.
- b) Nordeste Baiano.
- c) Sul Baiano.
- d) Centro-Sul Baiano.
- e) Extremo-Oeste Baiano.

#### Questão 40

Uma festa de rua do Recôncavo Baiano conquistou em 2009 o título de Patrimônio Cultural Imaterial do estado. Seu diferencial é que há mais de 100 anos a tradição é mantida até mesmo pelas roupas que lembram as usadas no século XIX. Qual o nome desta festa?

- a) Carnaval de Maragogipe.
- b) Maracatu.
- c) Folia de Reis.
- d) Festa do Olodum.
- e) Carnaval de Salvador.